

10 DE JANEIRO DE 2016

CARGO: Monitor de Artesanato

INSTRUÇÕES

Este Caderno de Questões contém **25 questões**, constituídas com cinco opções (A, B, C, D, E) e **uma única resposta correta**. Em caso de divergência de dados e/ou de defeito no Caderno de Questões, solicite providências ao fiscal de sala.

Você receberá juntamente com o Caderno de Questões, o **Cartão Resposta**, o qual deverá ser preenchido atentamente com **Nome, Concurso (PS Tigrinhos-SC), Nº da Inscrição, Data de Nascimento, as respostas por questão e Assinatura**.

O **Nº de Inscrição** deverá ser preenchido da seguinte forma, de acordo com o exemplo abaixo:

Nº Inscrição: 00036 (exemplo de nº de inscrição)

											1	2	3	4	5	6	7	8	9	
											1	2	3	4	5	6	7	8	9	
											1	2	3	4	5	6	7	8	9	
											0	1	2		4	5	6	7	8	9
											0	1	2	3	4	5		7	8	9

As respostas do Caderno de Questões deverão ser transcritas para o Cartão Resposta, com caneta esferográfica de tinta azul ou preta, de acordo com as orientações de preenchimento abaixo:

													1		B	C	D	E
													2	A		C	D	E
													3	A	B		D	E

O **Cartão Resposta** é o único documento válido para a correção das provas e o não preenchimento correto implica a anulação da questão. **Não será fornecido**, em hipótese alguma, novo Cartão Resposta por erro de preenchimento por parte do candidato. O Cartão Resposta é **insubstituível** e de inteira responsabilidade do candidato, por isso não deve ser amassado, dobrado, rasgado ou rasurado.

Durante a realização das provas **não será permitida qualquer consulta a materiais**, sejam didáticos ou eletrônicos. O candidato que for flagrado fazendo uso desses materiais estará automaticamente **eliminado** do Processo Seletivo.

A **interpretação das questões** é parte integrante da prova, não sendo permitido aos fiscais de sala auxiliar na interpretação.

A saída da sala de prova, com a entrega do Caderno de Questões e Cartão Resposta, somente será permitida após transcorrido **30 minutos do início da mesma**.

Ao concluir a prova e o preenchimento do Cartão Resposta, **entregue o Caderno de Questões e o Cartão Resposta ao fiscal de sala**. A não entrega de qualquer um dos itens especificados acima, implicará na eliminação do candidato do Processo Seletivo.

O tempo de duração total da prova é de **3 horas**, incluído o tempo para preenchimento do Cartão Resposta.

Os **3 últimos candidatos** ao terminar a prova deverão permanecer juntos em sala para, juntamente com os fiscais de sala, conferir os Cartões Resposta e assinar a folha ata e o lacre dos envelopes que guardarão os Cartões Resposta e os Cadernos de Questões.

A **desobediência** a qualquer uma das determinações constantes do Edital de Processo Seletivo, do presente Caderno de Questões e de preenchimento do Cartão Resposta, implicará na **eliminação do candidato** do Processo Seletivo.

O **Gabarito Preliminar** e as **provas escritas/objetivas** estarão disponíveis, no dia **11 de janeiro de 2016**, no site www.alternativeconcursos.com.br.

É facultado ao candidato interpor **recurso** contra as questões da prova escrita/objetiva através do email recursos@alternativeconcursos.com.br, no prazo de **12 e 13 de janeiro de 2016**.

Texto para as questões de 01 a 03:

Quando ela passa

Quando eu me sento à janela
P'los vidros qu'a neve embaça
Vejo a doce imagem d'elia
Quando passa... passa.... passa... [...]

Lançou-me em pesar profundo
Lançou-me a mágoa seu véu:
Menos um ser n'este mundo
E mais um anjo no céu. [...]

Quando eu me sento à janela
P'los vidros qu'a neve embaça
Julgo ver imagem dela
Que já não passa... não passa.

PESSOA, Fernando. *Cancioneiro*. Rio de Janeiro: Aguilar, 1969.

01) Dadas as informações:

1. O eu lírico nomeia seu sentimento em todos os versos do poema.
2. Os substantivos concretos foram usados para intensificar o sentimento do eu lírico.
3. Apesar de ser um poema é possível apontar características do gênero narrativo, pois há personagens, um lugar e um espaço.
4. O poema foi escrito para expressar os sentimentos do eu lírico; é um texto subjetivo.

- a) Somente 2, 3 e 4 estão corretas.
- b) Somente 1, 2 e 3 estão corretas.
- c) Somente 3 e 4 estão corretas.
- d) Somente 1 e 3 estão corretas.
- e) Somente 2 e 4 estão corretas.

02) “Quando eu me sento à janela...” O acento indicador de crase somente está corretamente empregado em:

- a) As crianças entrara uma à uma.
- b) Não dê atenção à pessoas negativas.
- c) Eu venho à mando de minha mãe.
- d) A orientadora sempre diz que devemos aliar a teoria à prática.
- e) Parei para admirar os quadros pintados à óleo.

03) “Lançou-me em pesar profundo...” Quanto à colocação pronominal, de acordo com a norma culta padrão, todas as alternativas abaixo estão corretas, exceto:

- a) Sempre me lembro dela.
- b) Vai-se a primeira pomba do ninho.
- c) Perguntei como chega-se lá na casinha amarela.
- d) Se me ensinares o caminho, irei até lá.
- e) Nenhum parque nos agradou.

04) Qual sentença apresenta erro em relação à concordância verbal:

- a) Os patrões duvidam que os empregados voltem ao trabalho.
- b) Eu adoraria que ela visse ao meu encontro hoje à noite.
- c) É necessário que tragamos fantasias para a festa?
- d) Não consigo acreditar que a fama daquele cantor tenha chegado ao fim.
- e) É bom que haja um pouco de calma.

05) Complete as sentenças:

1. Ao para a foto, segurou uma pequena flor.
2. À noite, a cabeça no travesseiro e dormiu.
3. Um, foi o primeiro brinquedo que ganhei.
4. O trabalhava com vontade.

A ordem correta está na assertiva:

- a) posar – pousou – pião – peão
- b) pousar – posou – pião - peão
- c) pousar – posou – peão - pião
- d) posar – pousou – peão - pião
- e) pousar – pousou – pião - peão

Matemática

06) Paguei R\$ 16,00 por 1kg de carne. Quanto pagaria por 400 gramas dessa mesma carne:

- a) R\$ 7,20
- b) R\$ 5,30
- c) R\$ 8,50
- d) R\$ 4,90
- e) R\$ 6,40

07) Admitindo-se que a distância entre as duas cidades A e B seja de 200km, uma pessoa percorreu $\frac{4}{11}$ dessa distância de ônibus e o restante de carro. Qual é aproximadamente em km o total percorrido por essa pessoa de carro?

- a) 195
- b) 83
- c) 71
- d) 139
- e) 127

08) O Determinante da matriz dada por $\begin{bmatrix} 3 & -8 \\ -1 & 4 \end{bmatrix}$ é:

- a) -5
- b) -3
- c) 18
- d) 4
- e) 64

09) Um cilindro possui diâmetro da base de 8cm e altura de 5cm, então o volume desse cilindro em cm^3 é de: (adote $\pi=3$)

- a) 240
- b) 96
- c) 120
- d) 380
- e) 310

10) Quantos anagramas possui a palavra PENSE:

- a) 20
- b) 240
- c) 60
- d) 40
- e) 100

Espaço para cálculo:

Conhecimentos Gerais

11) Qual time de futebol se consagrou campeão antecipado do Campeonato Brasileiro de Futebol de 2015 (oficialmente Brasileirão Chevrolet 2015 - Série A)?

- a) Corinthians.
- b) Grêmio.
- c) Atlético MG.
- d) São Paulo.
- e) Internacional.

12) Recentemente indígenas realizaram protestos em diversas localidades do País. Os protestos foram contra a Proposta de Emenda à Constituição que transfere ao Congresso a prerrogativa

- a) PEC37
- b) PEC155
- c) PEC187
- d) PEC214
- e) PEC215

13) Em 29 de setembro de 2015 o Município de Tigrinhos (SC) completou quantos anos desde sua fundação?

- a) 19
- b) 15
- c) 20
- d) 25
- e) 21

14) Leia o trecho do Hino do Município de Tigrinhos (SC) e assinale a alternativa que o completa corretamente:

“Quando o sol lança os raios primeiros
Sobre a tua terra, que é tão generosa,
Elevamos uma oração comovente
_____”

- a) Para sucesso dessa gente esperançosa.
- b) Nesse mundo de gente gloriosa.
- c) Para que seja a jornada ditosa.
- d) Em busca de uma benção gloriosa.
- e) No clarear da manhã majestosa.

15) É um fenômeno causado pelo aquecimento das águas do Pacífico além do normal e pela redução dos ventos alísios na região equatorial. Sua principal característica é a capacidade de afetar o clima a nível mundial através da mudança nas correntes atmosféricas. De que fenômeno o trecho acima se refere?

- a) Pororoca.
- b) La Niña.
- c) Nuvem lenticular.
- d) Mammatus.
- e) El Niño.

Conteúdos Específicos

16) (LDB) Conforme prescreve o art. 79-B da Lei de Diretrizes e Bases da Educacional Nacional – LDB, o calendário escolar incluirá o dia 20 de novembro como:

- a) Dia Nacional da Consciência Negra.
- b) Dia Nacional da Paz.
- c) Dia Nacional do Meio Ambiente.
- d) Dia Nacional da Reciclagem.
- e) Dia Nacional da Aprendizagem.

17) (ECA) De acordo com o art. 53 do Estatuto da Criança e do Adolescente – ECA, a criança e o adolescente têm direito à educação, visando:

- I. Pleno desenvolvimento de sua pessoa.
- II. Preparo para o exercício da cidadania.
- III. Qualificação para o trabalho.
- IV. Respeito à condição peculiar de pessoa em desenvolvimento.

- a) Somente I, II e IV estão corretos.
- b) Somente I, II e III estão corretos.
- c) Somente II e III estão corretos.
- d) Todos estão corretos.
- e) Nenhum está correto.

18) De acordo com os Parâmetros Curriculares Nacionais – Arte, além do conhecimento artístico como experiência estética direta da obra de arte, o universo da arte contém também um outro tipo de conhecimento, gerado pela necessidade de investigar o campo artístico como atividade humana. Tal conhecimento delimita o fenômeno artístico:

- I. Como produto das culturas.
- II. Como parte da História.
- III. Como estrutura formal na qual podem ser identificados os elementos que compõem os trabalhos artísticos e os princípios que regem sua combinação.

- a) Somente I e II estão corretos.
- b) Somente II e III estão corretos.
- c) Somente I e III estão corretos.
- d) Todos estão corretos.
- e) Nenhum está correto.

19) A pintura em tecido é um artesanato que vem se tornando muito popular. A arte consiste em transferir um desenho, chamado na prática de _____, para

um determinado tipo de tecido e pintá-lo, usando tintas específicas para essa técnica. Assinale a alternativa que completa corretamente o trecho acima:

- a) Saturação.
- b) Risco.
- c) Paleta.
- d) Betume.
- e) Demão.

20) São aquelas cores que existem sem a mistura de outras, ou seja, não podem se decompor em outras. Tratam-se das:

- a) Cores Primárias.
- b) Cores Secundárias.
- c) Cores Terciárias.
- d) Cores Quentes.
- e) Cores Neutras.

21) São cores primárias:

- I. Vermelho.
- II. Azul.
- III. Amarelo.
- IV. Verde.
- V. Laranja.

- a) Somente I, II e III estão corretos.
- b) Somente IV e V estão corretos.
- c) Somente I, III e V estão corretos.
- d) Todos estão corretos.
- e) Nenhum está correto.






22) O Macramê é uma técnica de tecer fios que não utiliza nenhum tipo de maquinaria ou ferramenta. É uma forma de tecelagem manual. Trabalhando com os dedos, os fios vão se cruzando e ficam presos por nós, formando cruzamentos geométricos, franjas e uma infinidade de formas decorativas. O macramê tem duas formas mais conhecidas de trançado:

- a) O ponto "festonê" e o ponto "nó duplo".
- b) O ponto "de alinhavo" e o ponto "de alinhavo enlaçado".
- c) O ponto "anjour" e o ponto "apanhado".
- d) O ponto "de areia" e o ponto "de aresta".
- e) O ponto "chato" e o ponto "cruz".

23) São materiais utilizados para realizar uma pintura em tecido, exceto:

- a) Tecido.
- b) Pincéis.
- c) Cola Permanente.
- d) Tintas.
- e) EVA.

24) Assinale a alternativa que apresenta o símbolo para identificação do aço reciclável:

- a) 
- b) 
- c) 
- d) 
- e) 

25) (Informática) Marque a opção que apresenta um dispositivo onde ficam armazenados todos os programas do computador, fotos e o sistema operacional:

- a) USB.
- b) HD.
- c) Placa mãe.
- d) Placa de rede.
- e) Placa de vídeo.